



1 Hoe heten deze bijzondere figuren?

kegel

bol

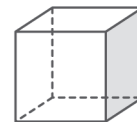
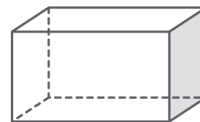
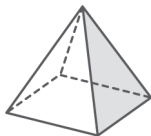
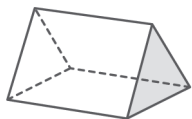
~~prisma~~

piramide

balk

kubus

cilinder



prisma

cilinder

piramide

bol

balk

kegel

kubus

2 Hoe heet het figuur?

a) Het heeft 4 rechthoekige zijvlakken en 12 ribben.

balk

b) Het heeft 6 vierkanten en 8 hoeken.

kubus

c) Het bovenste en onderste vlak is een cirkel.

cilinder

d) Het is overal rond.

bol

e) Het heeft een vierkant en vier driehoeken.

piramide

f) Onderop heeft het een cirkelvormig vlak en naar boven toe wordt het steeds smaller.

kegel



g) Het heeft aan de boven- en onderkant een driehoek en aan de zijden drie rechthoeken.

prisma